

### Resolución de problemas

1. Lee y resuelve con una suma o con una resta.

- En un árbol se encuentran 8 ardillas y 5 micos. ¿Cuántos animales hay en el árbol?

$$\square + \square = \square$$

Hay  $\square$  animales en el árbol.

- La abuela de María tiene 9 rosas en el jardín y cortó 4 rosas para María. ¿Cuántas rosas quedaron en el jardín?

$$\square - \square = \square$$

Quedaron  $\square$  rosas en el jardín.

2. Lina tiene en su armario de juguetes 3 muñecas y 4 osos. ¿Cuántos juguetes tiene Lina en total? \_\_\_\_\_



$$\begin{array}{r} \square \\ + \square \\ \hline \square \end{array}$$

3. La gallina Turuleca calienta así sus huevitos. Si ya nacieron 4 pollitos, ¿cuántos faltan aún por nacer? \_\_\_\_\_



$$\square - \square = \square$$

0 1 2 3 4 5 6 7 8 9 — / —

### Adición y sustracción hasta 9

4. Escribe la suma y resuelve.

$$\begin{array}{r} \star\star\star\star\star \\ + \star\star \\ \hline \square \\ \square \\ \hline \square \end{array}$$

estrellas




$$\begin{array}{r} \square \\ + \square \\ \hline \square \end{array}$$

tajalapices

$$\begin{array}{r} \square \\ + \square \\ \hline \square \end{array}$$

llaves

5. Une el resultado de la resta con la cantidad en letras.



tres

cinco

siete

6. Escribe el resultado

$$\begin{array}{r} + 5 \\ 0 \\ \hline \square \end{array}$$

$$\begin{array}{r} + 8 \\ 1 \\ \hline \square \end{array}$$

$$\begin{array}{r} + 4 \\ 4 \\ \hline \square \end{array}$$

$$\begin{array}{r} + 4 \\ 3 \\ \hline \square \end{array}$$

$$\begin{array}{r} + 7 \\ 3 \\ \hline \square \end{array}$$

$$\begin{array}{r} + 8 \\ 5 \\ \hline \square \end{array}$$

$$\begin{array}{r} + 9 \\ 4 \\ \hline \square \end{array}$$

$$\begin{array}{r} + 6 \\ 3 \\ \hline \square \end{array}$$

$$\begin{array}{r} + 3 \\ 3 \\ \hline \square \end{array}$$

$$\begin{array}{r} + 2 \\ 1 \\ \hline \square \end{array}$$